


# Via del per



Quante porte in tutto?

$$2 + 2 + 2 + 2 = \dots 8 \dots$$

2 ripetuto 4 volte.

2 PER 4 volte.

$$2 \times 4 = \dots 8 \dots$$

Quante camini in tutto?

$$3 + 3 + 3 + 3 = \dots 12 \dots$$

3 ripetuto 4 volte.

3 PER 4 volte.

$$3 \times 4 = \dots 12 \dots$$

Quante finestre in tutto?

$$4 + 4 + 4 + 4 = \dots 16 \dots$$

4 ripetuto 4 volte.

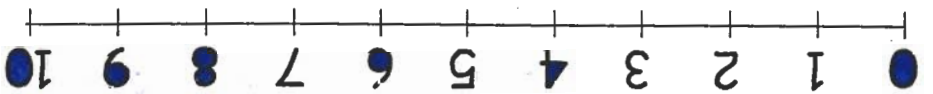
4 PER 4 volte.

$$4 \times 4 = \dots 16 \dots$$

Correda 3 aprile 2008

TABELLINA DELLO ZERO

Salta 0 sulla linea dei numeri e trascrivi i numeri ottenuti:



$$0 \times 0 = 0$$

$$0 \times 1 = 0$$

$$0 \times 2 = 0$$

$$0 \times 3 = 0$$

$$0 \times 4 = 0$$

$$0 \times 5 = 0$$

$$0 \times 6 = 0$$

$$0 \times 7 = 0$$

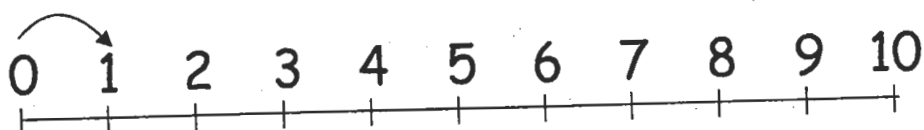
$$0 \times 8 = 0$$

$$0 \times 9 = 0$$

$$0 \times 10 = 0$$

## LA TABELLINA DELL'1

Salta 1 sulla linea dei numeri e trascrivi i numeri ottenuti:



$1 \times 0 =$

$1 \times 6 =$

$1 \times 1 =$

$1 \times 7 =$

$1 \times 2 =$

$1 \times 8 =$

$1 \times 3 =$

$1 \times 9 =$

$1 \times 4 =$

$1 \times 10 =$

$1 \times 5 =$

*Esegui in colonna:*

$14 + 77 =$

$77 - 14 =$

$56 + 24 =$

$82 - 24 =$